


いじょう
4年生以上

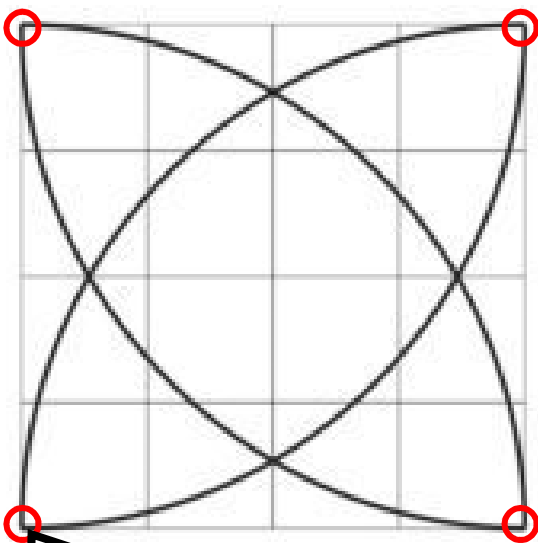
さんすう 算数おもしろクイズ 3

ちょうせん
コンパスのもように挑戦!

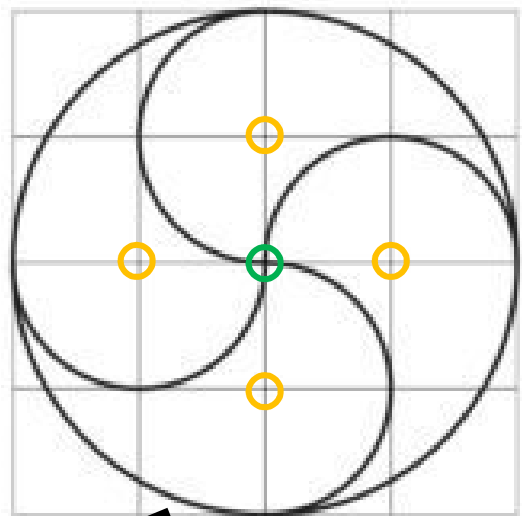
下のようなマスの紙の上に、次のような図形をコンパスだけでかいてみましょう。



いんさつ
左の紙をこのまま印刷して使ってもいいよ!



この4か所に針を刺して、半径を4マス分の円の一部分を4つかけば出来上がりです。



○に針を刺して半径2マス分の円を1つ、○に針を刺して半径1マス分の半円を4つかけば出来上がりです。